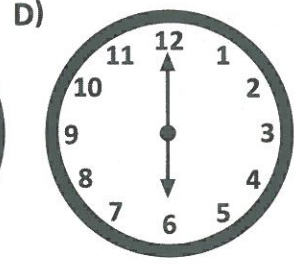
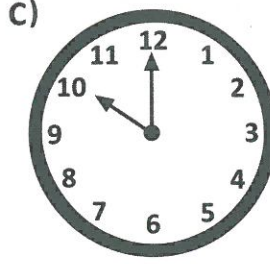
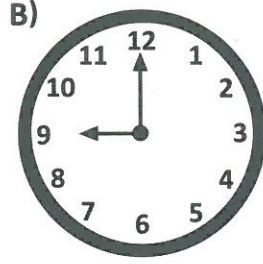
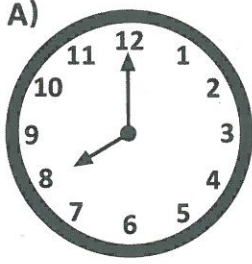
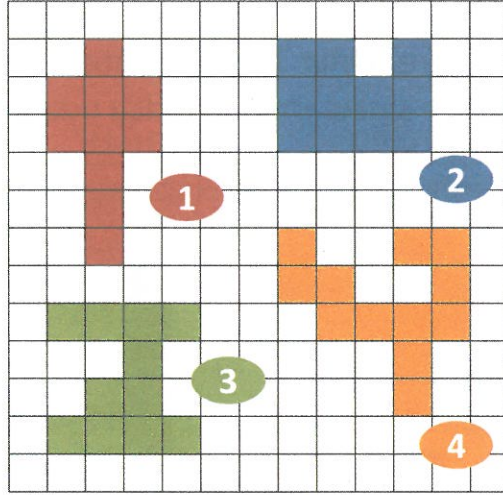


1 Aşağıdaki saatlerden hangisinin akrep ve yelkovanı bir dar açı oluşturur?



2



Yukarıdaki düzlemsel bölgelerden hangisinin alanı en fazladır?

A) 1

B) 2

C) 3

D) 4

3

8,01



1

8,16



2

8,1



3

8,06



4

Yukarıdaki yarış arabalarının üstünde yazan ondalık sayılar, arabaların aynı sürede aldıkları mesafeleri km cinsinden göstermektedir.

Buna göre, yukarıdaki arabalardan en hızlı olanı hangisidir?

A) 1

B) 2

C) 3

D) 4

4



Alp yukarıdaki sayı doğrusu üzerinde verilen \triangle ve \square şekilleri yerine gelen kesirleri yazacaktır. Buna göre Alp'in yazdığı kesirler sırasıyla aşağıdakilerden hangisidir?

A) $\frac{3}{5}, \frac{12}{5}$

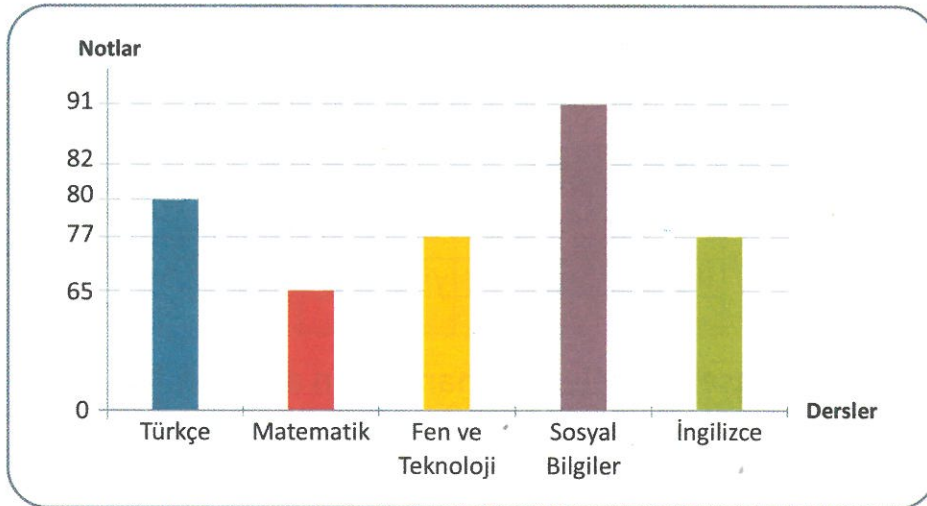
B) $\frac{4}{5}, \frac{13}{5}$

C) $\frac{2}{5}, \frac{3}{5}$

D) $\frac{3}{6}, \frac{14}{6}$

5

Aşağıdaki grafikte bir öğrencinin Türkçe, Matematik, Fen ve Teknoloji, Sosyal Bilgiler ve İngilizce sınavlarından aldığı puanlar gösterilmektedir.



Buna göre bu öğrencinin Sosyal Bilgiler dersinden aldığı not ile Fen ve Teknoloji dersinden aldığı not arasındaki fark kaçtır?

A) 5

B) 11

C) 14

D) 26