

1

1		2	
4	Çok Sıcak	A	Çorba
2	Soğuk	D	Kutuplar
3	Sıcak	B	Yanardağ
1	Çok Soğuk	C	Sonbahar

Yukarıda yer alan 1. ve 2. kutudakiler aşağıdakilerden hangisinde doğru olarak eşleştirilmiştir?


A) 4-B, 2-C, 3-A, 1-D

B) 4-A, 2-B, 3-C, 1-D

C) 4-B, 2-A, 3-D, 1-C

D) 4-B, 2-C, 3-D, 1-A

2




Yukarıdaki resimdeki boşluğa aşağıdaki parçalardan hangisi gelmelidir?


A)



B)



C)



D)



3

Ceyda'nın ders çalışırken aşağıdakilerden hangisine ihtiyacı vardır?

A) Basketbol topu

B) Kitap

C) Oyun dergisi

D) Bilgisayar oyunu


4

Bu dönem derslerime çok çalışıp sınavlardan ..... not almalıyım. Derslerimde başarılı olursam çok istediğim telefon alınacak, bana. Yaz tatilinde de teyzelere gideceğimi öğrenince çok sevindim. Kuzenlerimle birlikte tatil yapacağım için çok ..... Tatil için şimdiden alışverişe başladık. Kendime şort, tişört ve ..... aldım. Kuzenlerime de çeşitli hediyeler aldık.

Yukarıdaki cümlede boş bırakılan yerlere sırasıyla hangileri gelmelidir?

- A) Düşük - Telaşlandım - Terlik      B) Yüksek - Sinirlendim - Şapka  
C) Yüksek - Mutluyum - Terlik      D) Düşük - Üzüldüm - Şapka


5



Yukarıda okul araç ve gereçleri numaralandırılmıştır. Ahmet çantasına kitap, kalem, elma ve silgi koyacaktır. Buna göre Ahmet'in çantasına yerleştirmesi gereken araç ve gereçler aşağıda hangi şıkta doğru verilmiştir?

- A) 1 - 3 - 4 - 6      B) 2 - 4 - 6 - 7      C) 2 - 4 - 5 - 8      D) 2 - 3 - 6 - 7

6



Yukarıdaki sayı dizisinde bir sayı kuralı bozmaktadır. Bu sayı hangisidir?

- A) 20      B) 26      C) 28      D) 32

7



Aşağıdakilerden hangisi yukarıda yer alan kekler arasında bulunmamaktadır?

A)



B)



C)



D)



8

G	E	K	L	U	D
E	T	T	N	İ	S
K	S	A	E	L	E
Y	İ	E	R	M	F
A	H	D	İ	A	R
M	U	İ	P	Ş	K

Yukarıdaki harf tablosunda dikey, yatay ya da çapraz olarak aşağıdaki kelimelerden hangisi bulunmaktadır?


A) ETEK

B) KABA

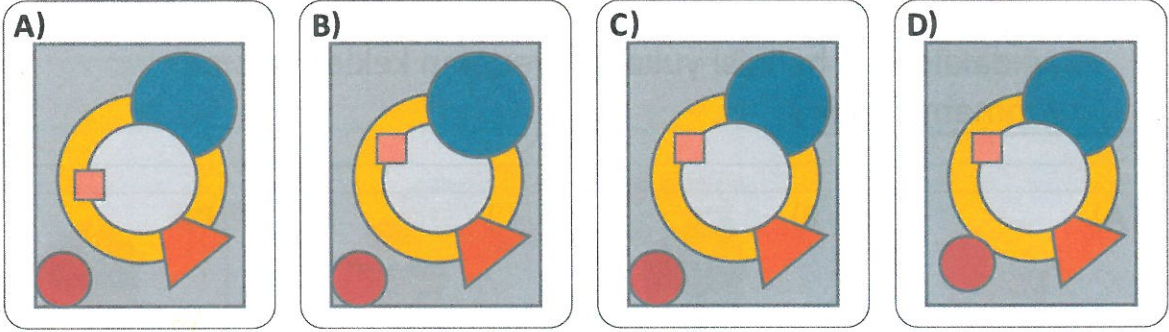
C) TARAK

D) RADAR

9



Yukarıdaki şekiller üst üste getirildiğinde seçeneklerdeki şekillerden hangisi oluşur?



10

Aşağıdaki tabloda öğrencilerin derslerden 1. ve 2. sınavda aldığı notlar yer almaktadır. 5 en yüksek not, 1 en düşük nottur.

Öğrenciler	Matematik		Türkçe		Sosyal Bilgiler		Fen	
	1.Sınav	2.Sınav	1.Sınav	2.Sınav	1.Sınav	2.Sınav	1.Sınav	2.Sınav
Ali	4	5	4	5	3	4	5	5
Ayşe	5	4	4	5	4	4	3	5
Berk	3	5	3	5	4	4	3	4
Buse	5	4	3	4	3	5	5	3

Buna göre aşağıdakilerden hangisi yanlıştır?

- A) Tüm öğrenciler Türkçe dersinden 2. sınavda 1. sınavına göre daha yüksek not almışlardır.
- B) Ali'nin ve Buse'nin 1. ve 2. sınavda Matematik dersinden aldıkları notların toplamı birbirine eşittir.
- C) Ayşe ve Berk'in Sosyal Bilgiler dersinden 1. ve 2. sınavda aldıkları notlar birbirinden farklıdır.
- D) Fen dersinden en düşük notları 1. sınavda Ayşe ve Berk, 2. sınavda Buse almıştır.